

# GRADE 4 Mathematics

## Spanish Version Paper Item Sampler

1 El modelo está sombreado para que represente un entero.



- 2 De los estudiantes de la clase de Jorge,  $\frac{5}{12}$  fueron en autobús a la escuela el lunes y  $\frac{4}{12}$  caminaron a la escuela.

¿Qué fracción de los estudiantes de la clase de Jorge fueron en autobús o caminaron a la escuela el lunes?

Escribe tu respuesta en el espacio provisto.

- 
- 3 La señora Valdés compró 4 bolsas de dulces. Cada bolsa contenía 8 dulces. Puso igual número de todos los dulces en cada una de las 9 cajas de regalo que tenía.


¿Cuántos dulces sobraron?

Escribe tu respuesta en el espacio provisto.

- 4 Los dueños de un negocio rentaron 4,506.23 pies cuadrados de HVSDFLR HQ XQ HGL ¿FLR GH R ¿FLQDV (OORV SODQHDO cuadrados del espacio para la cocina.

¿Cuántos pies cuadrados de espacio sobran?

Escribe tu respuesta en el espacio provisto.



5 \$TXt VH PXHVWUDQ GRV ¿JXUDV

Figura 1

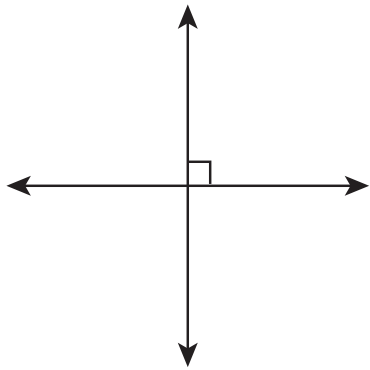



Figura 2



Selecciona UNA respuesta correcta en cada caja para completar cada oración.

/D ¿JXUD

PXHVWUDQ

que son

" rayos  
# segmentos de línea  
\$ segmentos de línea

" paralelos/as  
# perpendiculares

/D ¿JXUD

PXHVWUDQ

que son

" rayos  
# segmentos de línea  
\$ segmentos de línea

" paralelos/as  
# perpendiculares

6 -XDQ FODVL ¿Fy VX FROHFFLyQ GH WDUMHWDV GH EHLVE

- Le dará  $\frac{1}{5}$  de su colección a su hermano.
- Le venderá  $\frac{4}{10}$  de su colección a una tienda de tarjetas.

¿Cuánto de su colección de tarjetas de beisbol le quedará a Juan?

Selecciona UNA respuesta correcta para completar la oración.



9 La lista da información sobre el color favorito de cada uno de 22 estudiantes.

- 6 estudiantes escogieron rojo.
- 2 estudiantes escogieron amarillo.
- 5 estudiantes más de los que escogieron amarillo escogieron azul.
- 3 estudiantes menos de los que escogieron rojo escogieron violeta.
- El resto de los estudiantes escogió verde.

Utiliza marcas de conteo para crear una tabla de frecuencia que represente el número de estudiantes que escogieron cada color.

(VFULEH HO Q~PHUR FRUUHFWR GH PDUFDV GH FRQWHR

Color favorito

| Color    | Número de estudiantes |
|----------|-----------------------|
| Rojo     |                       |
| Amarillo |                       |
| Azul     |                       |
| Violeta  |                       |
| Verde    |                       |









STAAR SPANISH  
GRADE 4  
Mathematics